

Herramientas 1

Identifica los siguientes utensilios, equipos, herramientas y máquinas herramientas y clasifícalos según el tipo de operaciones para las que se utilizan.











	Herramienta	Clasificación
		
		
		
		
		
		
		
		
		
		
		
		

Nombre

Curso

 **Herramientas 2**

Identifica los siguientes utensilios, equipos, herramientas y máquinas herramientas y clasifícalos según el tipo de operaciones para las que se utilizan.

	Herramienta	Clasificación
		
		
		
		
		
		
		
		
		
		
		
		

Nombre

Curso