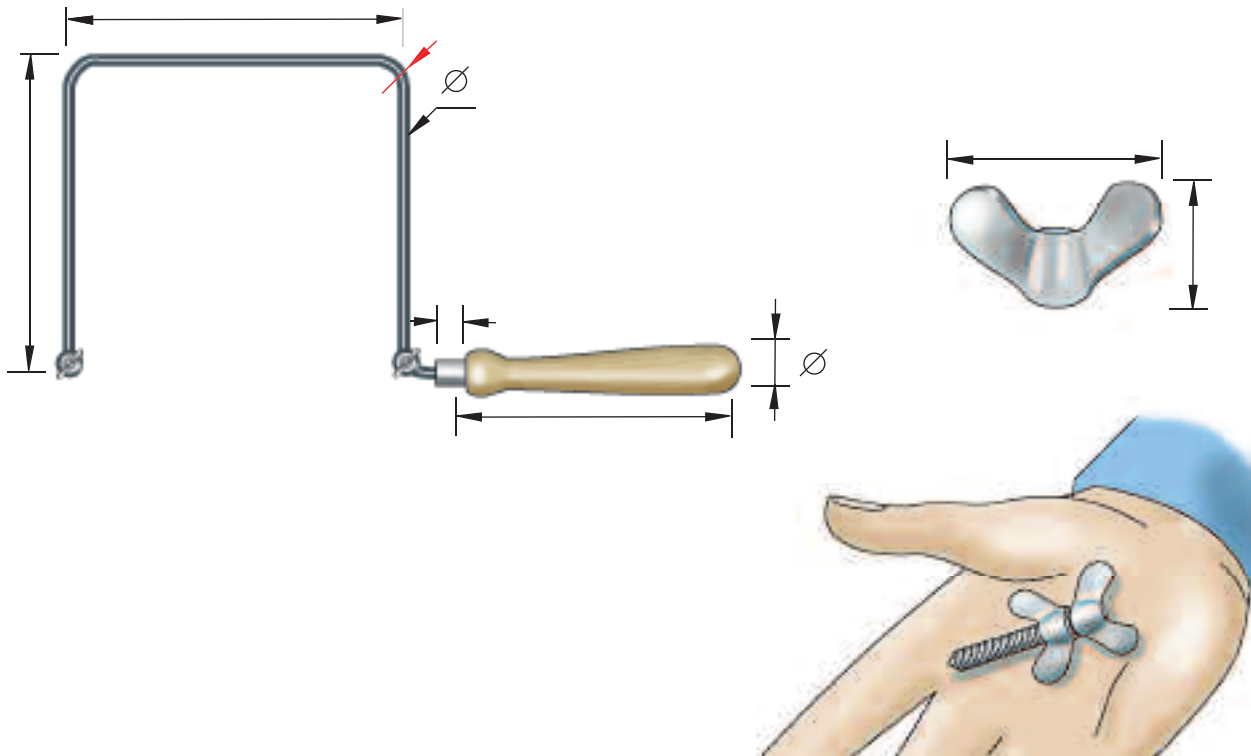


Mesurar amb regle




Altura de l'arc de la serra	_____ cm	_____ mm
Amplada de l'arc	_____ cm	_____ mm
Radi de la curvatura interior de l'arc	_____ cm	_____ mm
Longitud del mànec	_____ cm	_____ mm
Diàmetre del mànec	_____ mm	_____ cm
Diàmetre del tub de l'arc	_____ cm	_____ mm
Longitud de la part metàl·lica del mànec	_____ cm	_____ mm
Altura de la femella d'orelles	_____ cm	_____ mm
Amplada de la femella d'orelles	_____ cm	_____ mm

Nom

Curs

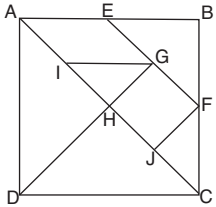
Mesurar amb regle



Altura de l'arc de la serra	_____ cm	_____ mm
Amplada de l'arc	_____ cm	_____ mm
Radi de la curvatura exterior de l'arc	_____ cm	_____ mm
Longitud del mànec	_____ cm	_____ mm
Diàmetre del mànec	_____ cm	_____ mm
Longitud de la part metàl·lica del mànec	_____ cm	_____ mm
Longitud de la fulla de serra	_____ cm	_____ mm
Amplada de la fulla de serra	_____ cm	_____ mm
Diàmetre del forat de la fulla de la serra	_____ cm	_____ mm

Nom


Curs

 Segments i angles


Representa els segments següents:  
 $AB = 2 \text{ cm}$ ;  $CD = 4 \text{ cm}$ ;  $EF = 6 \text{ cm}$ ;  $GH = 8 \text{ cm}$

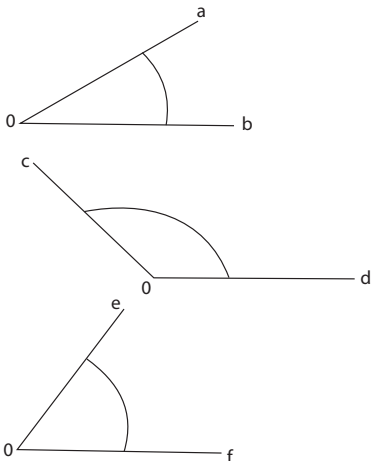
Representa les operacions següents amb segments:

$AB + CD$ ;  $AB + EF$ ;  $GH - AB$ ;  $GH - EF$




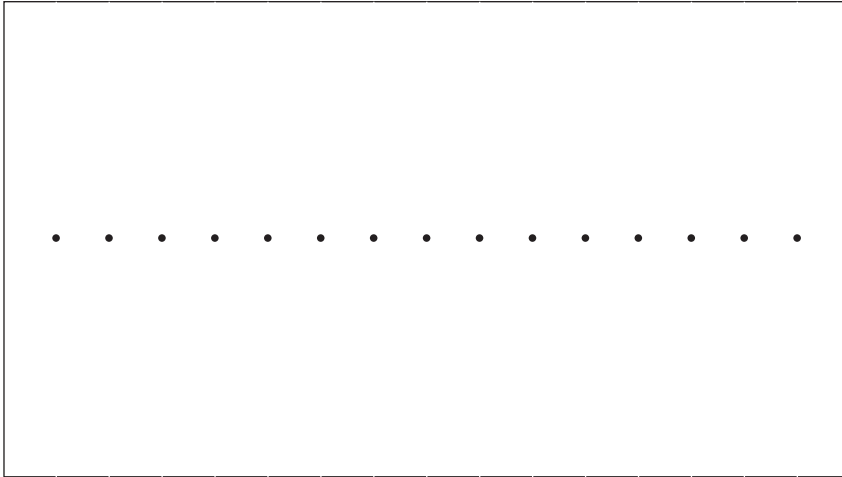
Amb el transportador d'angles, mesura els angles representats.

Amb el transportador d'angles, traça els angles següents:  $23^\circ$ ,  $35^\circ$ ,  $46^\circ$ ,  $157^\circ$ .





Nom

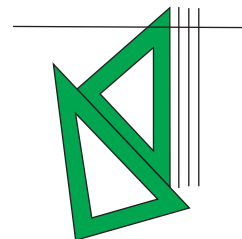
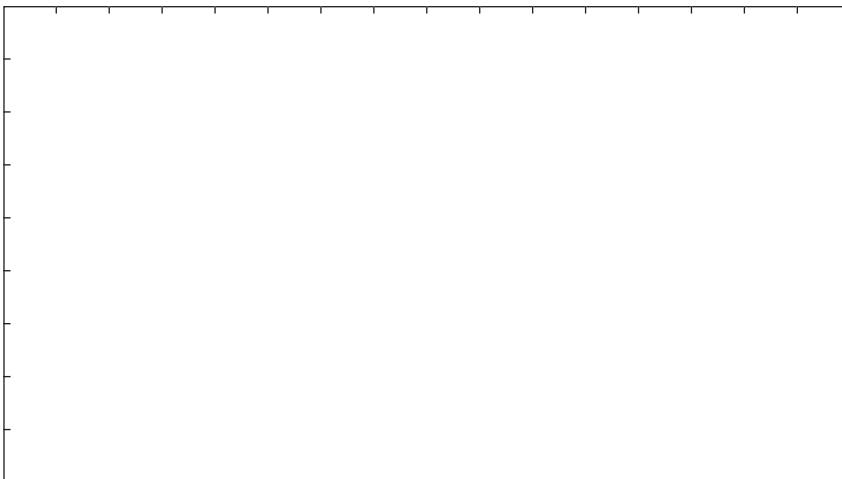
Curs

**Ratllat horitzontal i vertical**

Col·loca les plantilles com en la figura i traça paral·leles horitzontals per les marques.



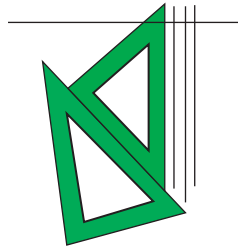

Col·loca les plantilles com en la figura i traça paral·leles verticals per les marques.



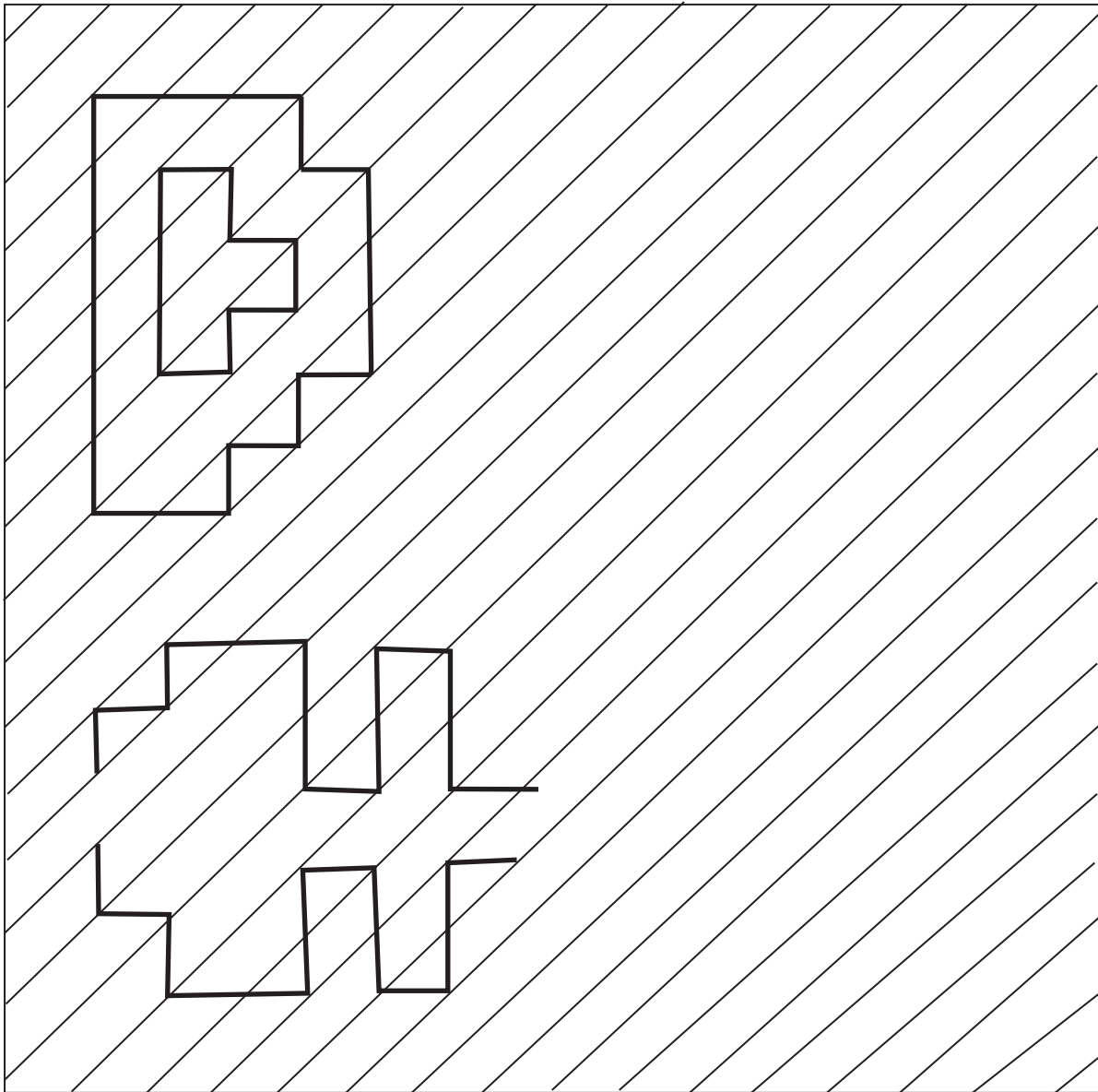
Col·loca les plantilles com en la figura i traça paral·leles i perpendiculars per les marques per obtenir una quadrícula.

Nom

Curs

**Traçat de paral·leles i perpendiculars**

Amb l'escaire i el cartabó, dibuixa els traçats inferiors mitjançant rectes paral·leles verticals i horitzontals.





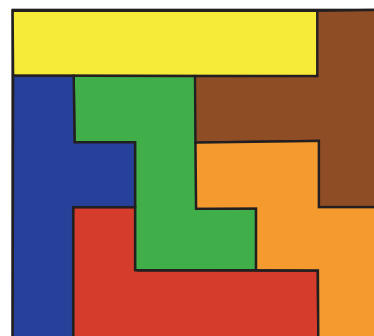

Nom

Curs

 Puzles

Dibuixa els puzles següents en els requadres de sota. Per fer-ho:

1. Amb l'escaire i el cartabó, traça paral·leles verticals i horitzontals amb 15 mm de separació per formar la quadrícula base.
2. Representa el perfil de les 6 peces sobre la quadrícula, utilitzant també l'escaire i el cartabó.
3. Acoloreix-ho i retalla les peces.
4. Ara desordena-les i, sense mirar la solució, intenta muntar els puzles.




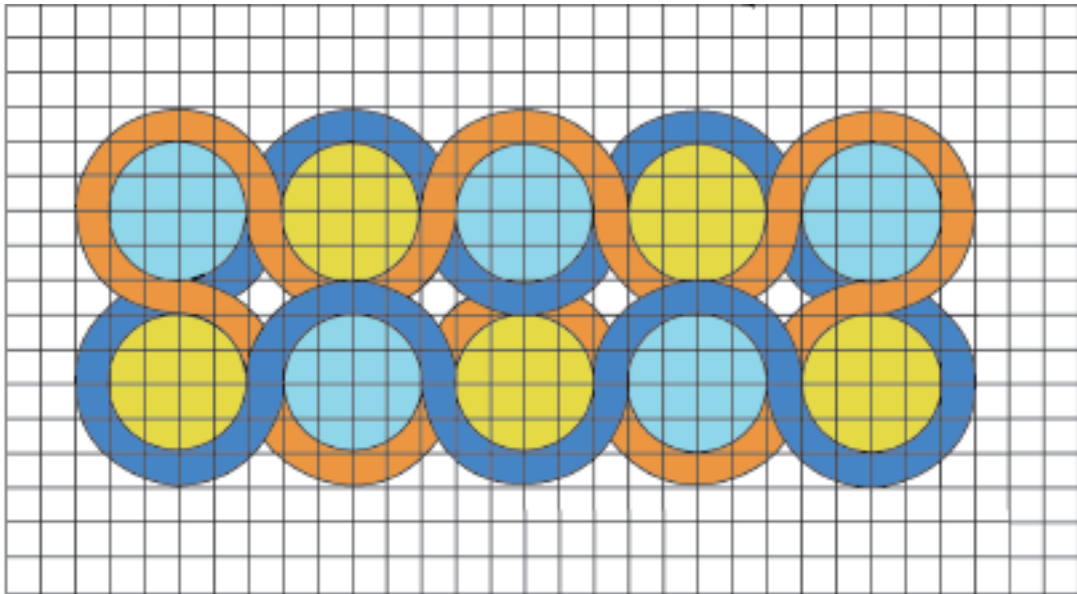
Nom

Curs

 **Sanefes**

Observa el model de sanefa representat i reproduueix-lo en la quadrícula. Per fer-ho:

1. Amb ajuda del compàs, traça les circumferències i els arcs de circumferència elegint els centres adequats.
2. Esborra les parts de circumferència sobrants i repassa-ho amb el compàs.
3. Finalment, acoloreix les diferents àrees.

**Nom****Curs**